

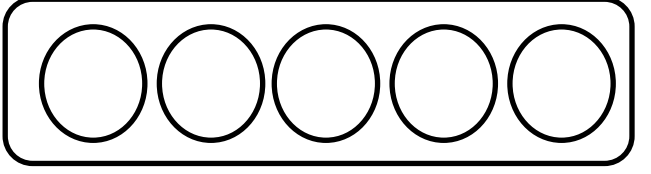
कक्षा : १

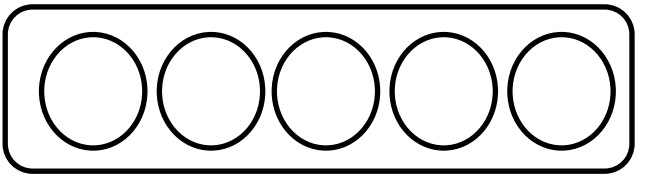
उमेर : ५ वर्ष

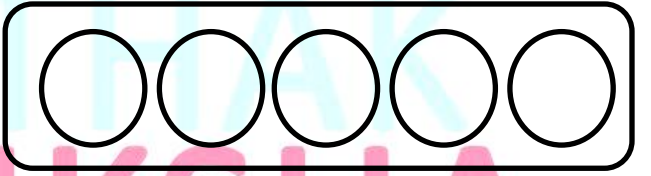
क्रियाकलापको कोड : MG1_080

निर्देशन : तल दिइएको संख्या अनुसार बाकस भित्रको गोलाकारमा रङ लगाउनुहोस् र कुल संख्या खालि बाकसमा लेख्नुहोस् ।

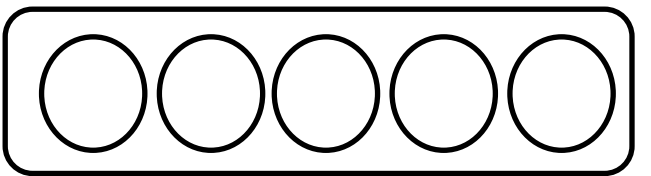
क्रियाकलापको नाम : रङ भरौं र सङ्ख्या जोडौं ।

$$१ + २ = \square$$


$$२ + १ = \square$$


$$१ + ३ = \square$$


$$२ + २ = \square$$


$$३ + १ = \square$$


सिकाइ उपलब्धि : सङ्ख्याहरूको जोड लेख्न सक्ने छन् ।

कक्षा : १

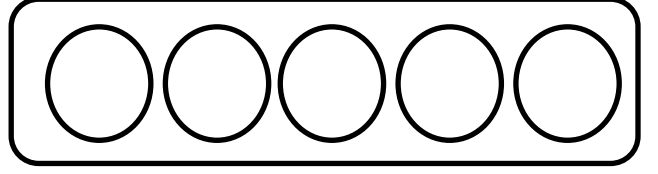
उमेर : ५ वर्ष

क्रियाकलापको कोड : MG1_081

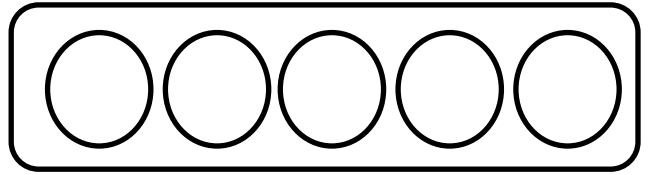
निर्देशन : तल दिइएको संख्या अनुसार बाकस भित्रको गोलाकारमा रङ लगाउनुहोस् र कुल संख्या खालि बाकसमा लेख्नुहोस् ।

क्रियाकलापको नाम : रङ भरौ र सङ्ख्या जोडौं ।

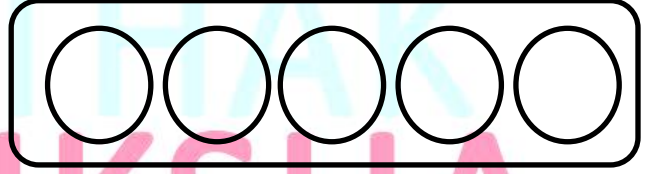
$$१ + ४ = \square$$



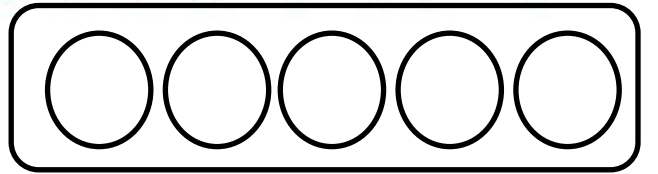
$$२ + ३ = \square$$



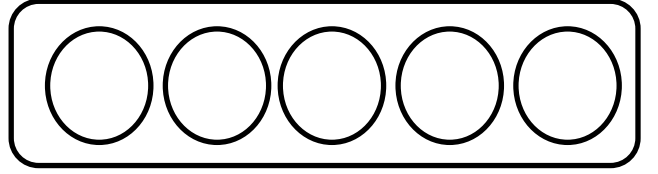
$$३ + २ = \square$$



$$४ + १ = \square$$



$$५ + ० = \square$$



सिकाइ उपलब्धि : सङ्ख्याहरूको जोड लेख्न सक्ने छन् ।

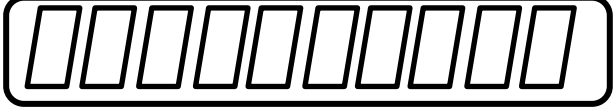
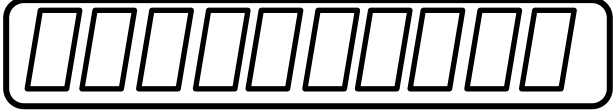








कक्षा : १

उमेर : ५ वर्ष

क्रियाकलापको कोड : MG1_082

निर्देशन : तल दिइएको संख्या अनुसार बाकस भित्रको वस्तुमा रङ लगाउनुहोस् र कुल संख्या खालि बाकसमा लेख्नुहोस् ।

क्रियाकलापको नाम : रङ भरौं र सङ्ख्या जोडौं ।

$१ + ९ =$	<input type="text"/>	
$२ + ८ =$	<input type="text"/>	
$३ + ७ =$	<input type="text"/>	
$४ + ६ =$	<input type="text"/>	
$५ + ५ =$	<input type="text"/>	
$४ + ६ =$	<input type="text"/>	
$६ + ४ =$	<input type="text"/>	
$७ + ३ =$	<input type="text"/>	
$८ + २ =$	<input type="text"/>	
$९ + १ =$	<input type="text"/>	

सिकाइ उपलब्धि : सङ्ख्याहरूको जोड लेख्न सक्ने छन् ।

कक्षा : १

उमेर : ५ वर्ष

क्रियाकलापको कोड : MG1_083

निर्देशन : तल दिइएको बाकसमा मिल्दो संख्या राखि जोडा पुरा गर्नुहोस् ।

क्रियाकलापको नाम : जोडा पुरा गरौं ।

$$\square + २ = ४ \quad \bigcirc \bigcirc \bigcirc \bigcirc$$

$$\square + १ = २ \quad \bigcirc \bigcirc$$

$$१ + \square = ५ \quad \bigcirc \bigcirc \bigcirc \bigcirc \bigcirc$$

$$\square + ३ = ४ \quad \bigcirc \bigcirc \bigcirc \bigcirc$$

$$४ + \square = ५ \quad \bigcirc \bigcirc \bigcirc \bigcirc \bigcirc$$

$$\square + २ = ३ \quad \bigcirc \bigcirc \bigcirc$$

सिकाइ उपलब्धि : सङ्ख्याहरूको जोडको जान्कारी हुनेछ ।