

कक्षा : १

उमेर : ५ वर्ष

क्रियाकलापको कोड : MG1\_092

निर्देशन : तल दिइएको संख्या मध्य बिजोर संख्या छानि खालि बाकसमा लेख्नुहोस् ।

क्रियाकलापको नाम : बिजोर संख्या लेखौं ।

२	५	३	१	४	६
८	१०	१३	९	१६	
१८	११	७	१९	१५	
२०	१४	१२	१७		

<input type="text"/>	<input type="text"/>	<input type="text"/>	<input type="text"/>	<input type="text"/>
<input type="text"/>	<input type="text"/>	<input type="text"/>	<input type="text"/>	<input type="text"/>

सिकाइ उपलब्धि : जोर र बिजोर सङ्ख्यामा वर्गीकरण गर्न सक्ने छन् ।

## सार्थक शिक्षा


कक्षा : १


उमेर : ५ वर्ष


क्रियाकलापको कोड : MG1\_093


निर्देशन : तल दिइएको बाकस भित्रको संख्या हेर्नुहोस् र जोर र बिजोर सङ्ख्या पुरा गर्नुहोस् । साथै तल सोधिएको प्रश्नको उत्तर दिनुहोस् ।

क्रियाकलापको नाम : सङ्ख्या पुरा गरौं ।

				
१	३	५	७	

				
२	४	६	८	

 हसिलो अनुहार कस्तो प्रकारको समूह हो ? जोर वा बिजोर ?

 तारा कस्तो प्रकारको समूह हो ? जोर वा बिजोर ?

सिकाइ उपलब्धि : जोर र बिजोर सङ्ख्यामा वर्गीकरण गर्न सक्ने छन् ।

## सार्थक शिक्षा

कक्षा : १

उमेर : ५ वर्ष

क्रियाकलापको कोड : MG1\_094

निर्देशन : तल दिइएको संख्याहरु हेर्नुहोस् र खालि बाकसमा जोर र बिजोर छुट्याएर लेख्नुहोस् ।

क्रियाकलापको नाम : जोर र बिजोर छुट्याउ ।

४	जोर	१७	
९		८	
५		१३	
७		१८	
१०		३	
१		१६	
१४		११	
२		२०	
१९		६	
१२		१५	

सिकाइ उपलब्धि : जोर र बिजोर सङ्ख्यामा वर्गीकरण गर्न सक्ने छन् ।

कक्षा : १

उमेर : ५ वर्ष

क्रियाकलापको कोड : MG1\_095

निर्देशन : तल दिइएको संख्या जोड्नुहोस् र जोर भए जोर र बिजोर भए बिजोरमा ठिक लगाउनुहोस् ।

क्रियाकलापको नाम : ठिक लगाऔं ।

$२ + ३ =$	<input type="text" value="५"/>	<input type="checkbox"/>	जोर	<input checked="" type="checkbox"/>	बिजोर
$१ + ३ =$	<input type="text"/>	<input type="checkbox"/>	जोर	<input type="checkbox"/>	बिजोर
$३ + ४ =$	<input type="text"/>	<input type="checkbox"/>	जोर	<input type="checkbox"/>	बिजोर
$४ + ५ =$	<input type="text"/>	<input type="checkbox"/>	जोर	<input type="checkbox"/>	बिजोर
$४ + २ =$	<input type="text"/>	<input type="checkbox"/>	जोर	<input type="checkbox"/>	बिजोर
$५ + ५ =$	<input type="text"/>	<input type="checkbox"/>	जोर	<input type="checkbox"/>	बिजोर
$२ + २ =$	<input type="text"/>	<input type="checkbox"/>	जोर	<input type="checkbox"/>	बिजोर
$१ + ५ =$	<input type="text"/>	<input type="checkbox"/>	जोर	<input type="checkbox"/>	बिजोर
$६ + २ =$	<input type="text"/>	<input type="checkbox"/>	जोर	<input type="checkbox"/>	बिजोर
$१ + ६ =$	<input type="text"/>	<input type="checkbox"/>	जोर	<input type="checkbox"/>	बिजोर

सिकाइ उपलब्धि : जोर र बिजोर सङ्ख्यामा वर्गीकरण गर्न सक्ने छन् ।